

15

Задание 7. Выберите правильное определение, обведите букву правильного ответа.

Полезные ископаемые – это ...

- а) все минералы и горные породы, из которых состоит Земля.
- б) природные богатства, которые люди добывают из глубин земли или с её поверхности и используют в народном хозяйстве.**
- в) полезные вещества, которые получают из горных пород и минералов.

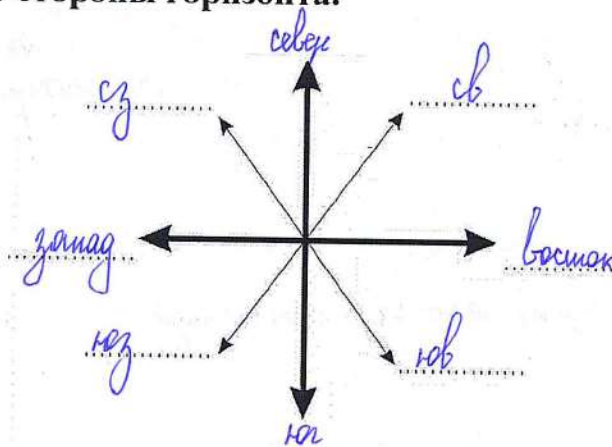
35

Задание 8. Узнайте природное явление по его описанию. Запишите ответ.

Природное явление	Ответ
1. Капельки воды, которые покрывают растения и поверхности в ранние часы в тёплое время года.	роса
2. Электрический разряд в небе, сопровождающийся громким звуком.	молния
3. Маленькие льдинки, которыми иногда сопровождается летний дождь.	слякучица
4. Снегопад с сильным ветром.	вьюга

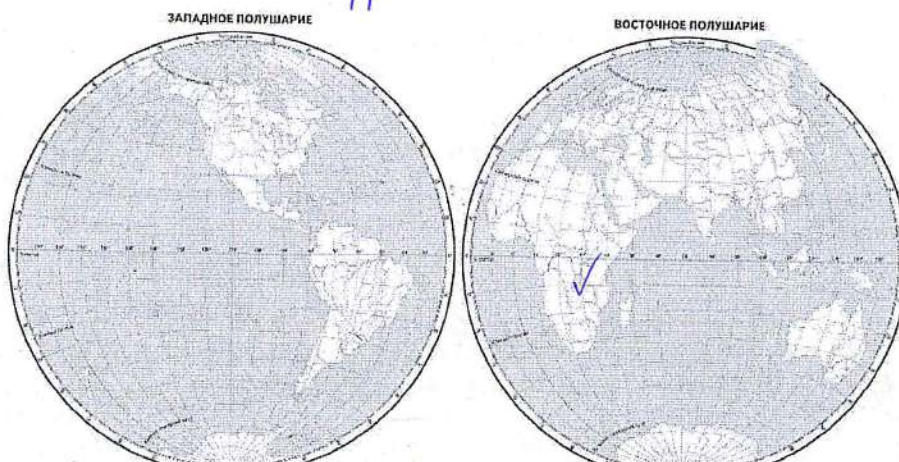
85

Задание 9. Укажите стороны горизонта.



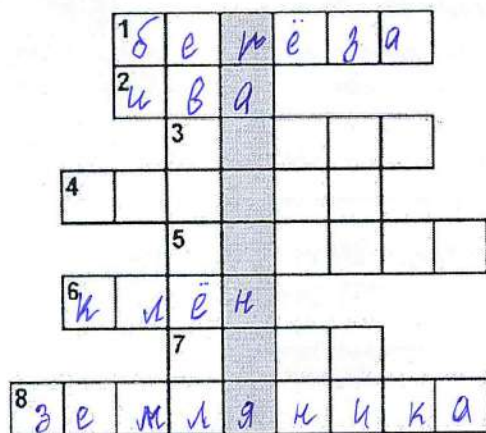
25

Задание 10. Укажите на карте знаком ✓ материк с самым жарким климатом. Как он называется? Ответ: Африка



125

Задание 11. Разгадайте кроссворд.



1. Лиственное дерево с белой корой.
2. Дерево, которое плачет.
3. Из этого дерева делают спички.
4. У него вместо листьев колючки.
5. Комнатное растение, которое отпугивает своим запахом моль.
6. Он считается символом Канады.
7. Лиственное дерево-медонос.
8. Лесная ягода.

Какое слово получилось по вертикали?

Ответ: _____

Задание 12. Соедините линией значения слов.

- | | | |
|---------------|-------|---------------------------|
| Планета | _____ | Раскалённое небесное тело |
| Созвездие | _____ | Луна |
| Спутник Земли | _____ | Холодное небесное тело |
| Звезда | _____ | Группа звёзд |

45

Задание 13. Составьте 3 цепи питания, используйте слова для выбора:

орехи, кабан, короед, кора дерева, дятел, белка, жёлуди, ястреб, волк
 короед - дятел - ястреб, жёлуди - кабан - волк, орехи - белка - волк, кора дерева - короед - дятел

65

Задание 14. Какой орган не является органом пищеварения? Зачеркните его.

пищевод желудок ~~лёгкие~~ кишечник язык зубы

Задание 15. Найдите причину.

Вырубили старые дуплистые деревья – погиб лес.

- а) в старых деревьях много насекомых: корма для птиц;
- б) в дуплах старых деревьев гнездятся птицы, живут летучие мыши, которые питаются опасными для леса насекомыми;
- в) в старых дуплистых деревьях живут белки.

Задание 16. Разгадайте ребусы о природных явлениях. Запишите ответ.


85



1) тикан



2) птица

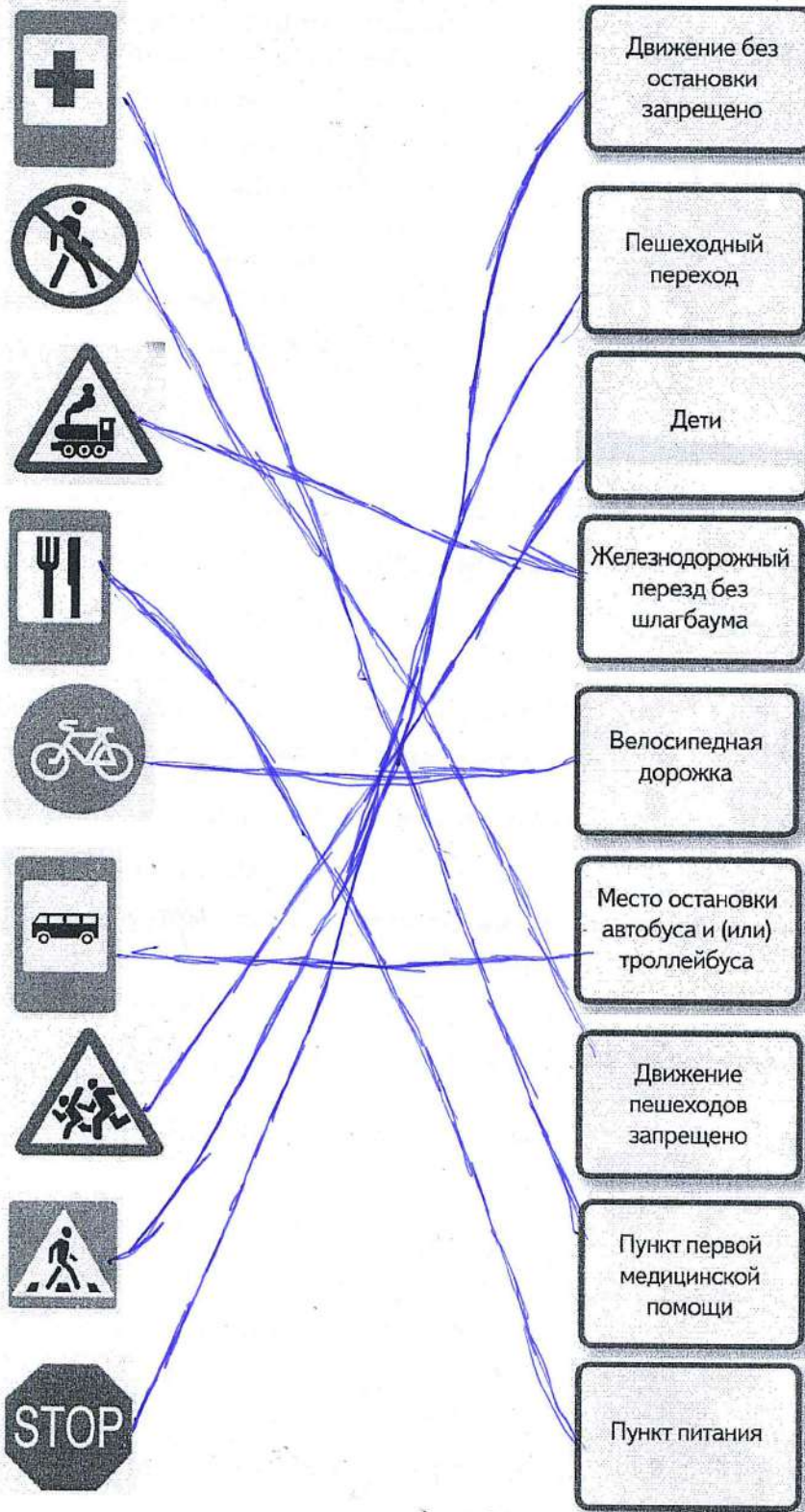


3) слизняк



4) ветер

96 Задание 17. Найдите название для каждого знака. Соедините линией.



58 Задание 18. На территории Тульской области произошла важная для истории нашей Родины битва. Русское войско под предводительством Дмитрия Донского одержало победу. Как называется это историческое место?

Ответ: Куликовское поле

Вотого! 835

В. И. ...



Городская олимпиада младших школьников и
обучающихся 5-6-х классов «Тулячок»
2023-2024 учебного года
по окружающему миру
школьный этап
3 класс

Время выполнения: 45 минут
Количество баллов: 100

Шифр участника

03-02-03

Задание 1. Блицтурнир. Ответьте на вопрос, запишите ответ.

100

- 1) Самый короткий месяц в году? февраль
- 2) Какой месяц следует после мая? июнь
- 3) Самая близкая к нашей планете звезда? Солнце
- 4) Сколько ног у насекомых? шесть
- 5) Как называется столица нашей Родины? Москва
- 6) К какой группе деревьев относятся сосна, кедр, ель? хвойные
- 7) Книга, в которую занесены исчезающие виды растений и животных?
Красная книга
- 8) По какому номеру вызывают пожарную службу? 01
- 9) Если ты стоишь лицом к северу, то за спиной у тебя юг
- 10) Прибор для измерения температуры – это термометр

Задание 2. Найдите 6 названий птиц. Зачеркните лишние буквы. Запишите названия птиц.

~~П~~~~В~~~~О~~~~Р~~~~О~~~~Н~~~~А~~~~Ч~~~~А~~~~К~~~~В~~~~А~~~~И~~~~С~~~~Т~~~~М~~~~А~~~~Щ~~~~Е~~~~Г~~~~О~~~~Л~~~~В~~~~Ы~~~~Ц~~~~М~~~~А~~~~Л~~~~И~~~~Н~~~~О~~~~В~~~~К~~~~А~~~~Ф~~~~И~~~~Г~~~~Е~~~~Т~~~~Д~~~~Я~~~~Т~~~~Е~~~~Л~~~~С~~~~Ж~~~~Е~~~~Л~~~~Г~~~~О~~~~Л~~~~У~~~~Б~~~~Ы~~~~З~~~~Г~~~~Е~~~~Р~~~~Х~~~~И~~~~А~~

Ответ: Ворона, аист, щегол, малиновка, дятел, голубь

60

Задание 3.

На Руси это дерево использовали для изготовления лаптей?

10

Ответ: берёза

Задание 4.

Какие почвенные организмы помогают плодородию почвы?

05

Ответ: членики

Задание 5. Подчеркните правильные ответы.

Что является государственными символами?

гимн памятники реки герб столица флаг леса

30

Задание 6. Подчеркните объекты природы.

Озеро, кружка, велосипед, облако, кирпич, родник, автобус, книга, бабочка.

45